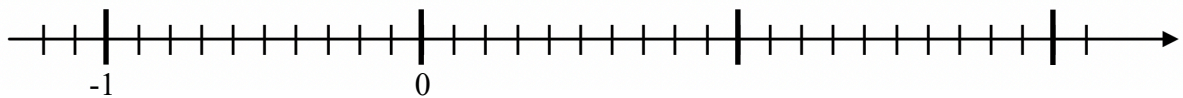


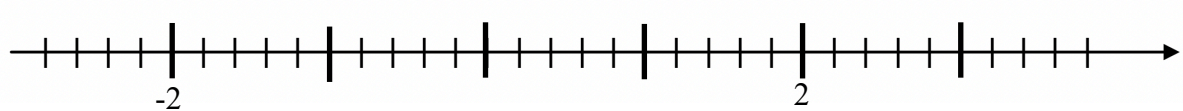
# VLOG 2: Zahlenstrahlen

Aufgabe 1: Zahlenstrahlen mit positiven Dezimalzahlen

a) Markiere folgende Zahlen auf dem Zahlenstrahl: 0,3 -1,2 2,1 1,3

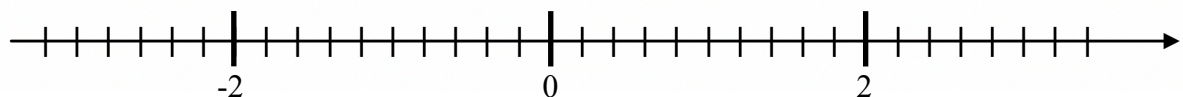


b) Markiere folgende Zahlen auf dem Zahlenstrahl: -2,6 -0,8 0,4 3

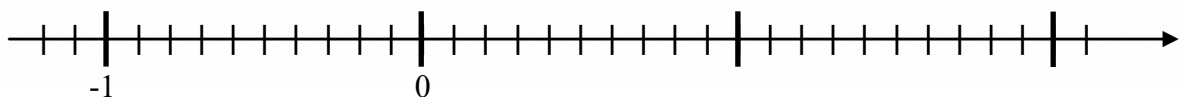


Aufgabe 2: Zahlenstrahlen mit positiven und negativen Dezimalzahlen

a) Markiere folgende Zahlen auf dem Zahlenstrahl: 1,6 0,8 -2,2 -0,2

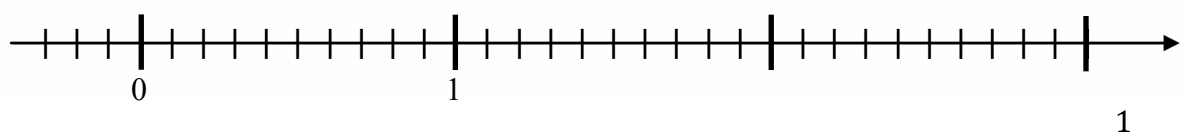


b) Markiere folgende Zahlen auf dem Zahlenstrahl: 1,9 -0,9 2,1 -0,25

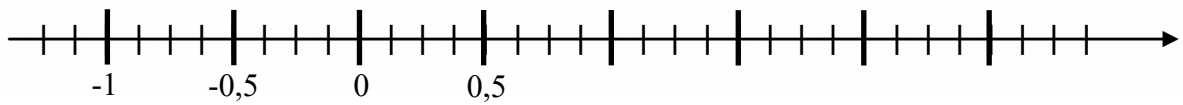


Aufgabe 3: Zahlenstrahlen mit positiven Brüchen

a) Markiere folgende Zahlen auf dem Zahlenstrahl:  $\frac{2}{5}$   $\frac{27}{10}$   $2\frac{3}{6}$   $\frac{10}{20}$

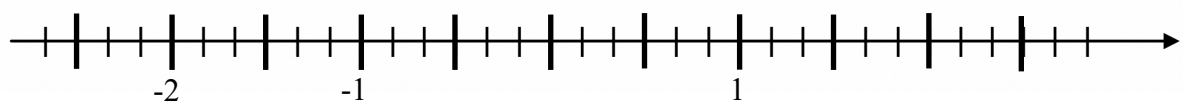


b) Markiere folgende Zahlen auf dem Zahlenstrahl:  $\frac{1}{8}$   $\frac{4}{16}$   $2\frac{5}{10}$   $\frac{60}{40}$

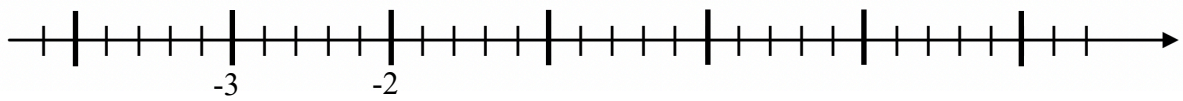


Aufgabe 4: Zahlenstrahlen mit negativen Brüchen

a) Markiere folgende Zahlen auf dem Zahlenstrahl:  $-\frac{1}{3}$   $-\frac{2}{6}$   $-1\frac{2}{6}$   $-\frac{8}{12}$

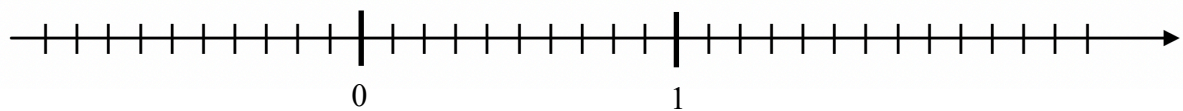


b) Markiere folgende Zahlen auf dem Zahlenstrahl:  $-\frac{6}{2}$   $-\frac{7}{7}$   $-1\frac{4}{5}$   $-\frac{2}{5}$



Aufgabe 5: Zahlenstrahlen mit positiven und negativen Dezimalzahlen und Brüchen

a) Markiere folgende Zahlen auf dem Zahlenstrahl: 0,8 1,4 -0,6  $\frac{2}{5}$



b) Markiere folgende Zahlen auf dem Zahlenstrahl: -1,2 0,7  $-\frac{3}{10}$   $\frac{8}{5}$

